

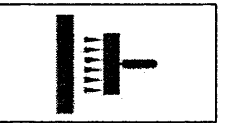



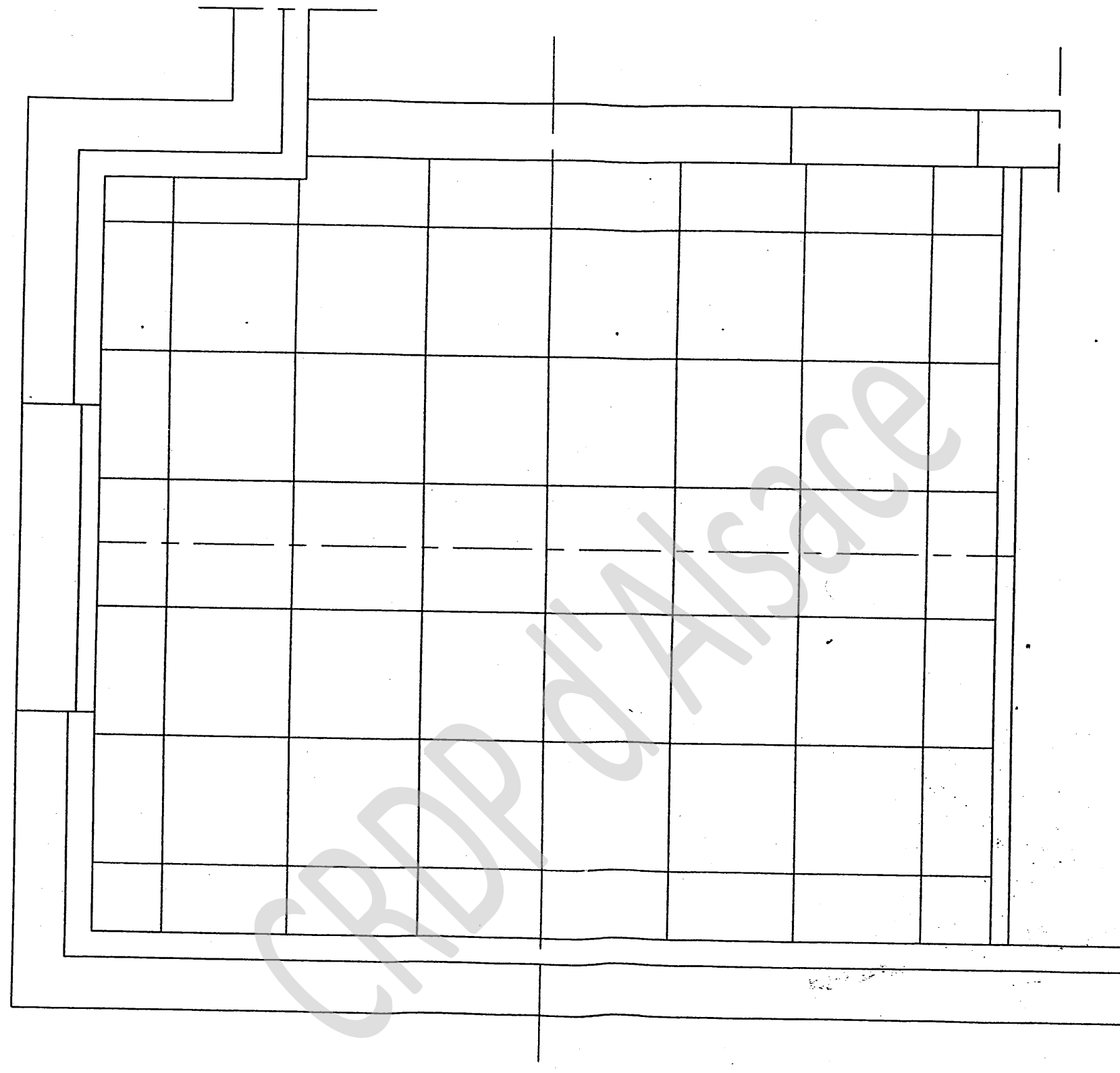
SERVICES CULTURE ÉDITIONS
RESSOURCES POUR
L'ÉDUCATION NATIONALE

CRDP ALSACE

Ce document a été numérisé par le CRDP
d'Alsace pour la Base Nationale des Sujets
d'Examens de l'enseignement
professionnel

S / C	TRAVAIL DEMANDE	RESSOURCES	EXIGENCES	REPONSES	BAREME						
Contexte de l'étude : <u>L'ETUDE PORTE SUR L'ANALYSE GENERALE DU DOSSIER TECHNIQUE</u>											
C1-1 Lire et décodé les documents	Donner le nom du maître d'ouvrage.	Dossier technique	Les réponses sont exactes	Nom du maître d'ouvrage : M. DURAND	/2						
	Donner le nom du maître d'œuvre.			Nom de maître d'œuvre : Société Espace Concept / S.THOMAS et T.GARNIER							
	Indiquer le nombre de pavillons à construire.			Nombre de pavillons : 11 pavillons							
	Indiquer le type de pavillon.		Le type de pavillon est exact.	<input type="checkbox"/> T3 <input checked="" type="checkbox"/> T5 <input type="checkbox"/> T11 Cocher la bonne réponse.	/1						
C1-2 Rechercher des informations	Indiquer le numéro du lot peinture.	Dossier ressources	Les réponses sont exactes.	Le numéro de lot est exact.	Numéro du lot peinture : 1	/1					
	Indiquer le type de revêtement utilisé pour les murs de la chambre n° 3 ainsi que le produit de finition qu'il reçoit.			Les réponses sont exactes.	Type de revêtement: revêtement à peindre type « GO » Produit de finition : 2 couches de peinture acrylique satinée	/2					
	Indiquer la longueur et la largeur du rouleau de revêtement à peindre.			Longueur du revêtement : 25 ml Largeur du revêtement : 1.06 ml	/2						
	Décoder les symboles inscrits sur le rouleau de revêtement à peindre		Les réponses sont exactes.	    Bonne résistance à la lumière Lessivable et brossable Encollage sur mur Pelable	/4						
	Indiquer le numéro de bain inscrit sur le rouleau de revêtement à peindre.			Numéro de bain : 28	/1						
SECTEUR - BATIMENT		CAP	Peintre Applicateur de Revêtements	SESSION 2009	Epreuve EP 1	Forme Ecrite	Durée	ANALYSE D'UNE SITUATION PROFESSIONNELLE	Coefficient	4	
									CORRIGE	Feuille	2 / 6

S / C	TRAVAIL DEMANDE	RESSOURCES	EXIGENCES	REPOSES	BAREME								
Contexte de l'étude : L'ETUDE PORTE SUR L'ANALYSE DES TRAVAUX DE LA CHAMBRE 3													
C2-4 Utiliser un mode opératoire	Classer dans l'ordre chronologique les tâches données afin de réaliser l'analyse de travail.	<p>Dossier technique</p> <p>Liste des tâches :</p> <ul style="list-style-type: none"> - 2 couches de peinture glycéro satinée - dégraissage - pose de revêtement type « GO » - 1 couche de peinture monocouche acrylique mate - ponçage - impression - révision des bandes - 2 couches de peinture acrylique satinée 	<p>L'ordre chronologique est respecté.</p> <p>L'analyse sera effectuée support par support</p>	<table border="1"> <tr> <td>Plafond</td> <td>Révision des bandes Ponçage Impression 1 couche de peinture monocouche acrylique mate</td> </tr> <tr> <td>Murs</td> <td>Révision des bandes Ponçage - Impression Pose du revêtement type « GO » 2 couches de peinture satinée</td> </tr> <tr> <td>Boiseries</td> <td>Ponçage Impression 2 couches de peinture glycéro satinée</td> </tr> <tr> <td>Métaux</td> <td>Dégraissage Ponçage Impression 2 couches de peinture glycéro satinée</td> </tr> </table>	Plafond	Révision des bandes Ponçage Impression 1 couche de peinture monocouche acrylique mate	Murs	Révision des bandes Ponçage - Impression Pose du revêtement type « GO » 2 couches de peinture satinée	Boiseries	Ponçage Impression 2 couches de peinture glycéro satinée	Métaux	Dégraissage Ponçage Impression 2 couches de peinture glycéro satinée	/24
Plafond	Révision des bandes Ponçage Impression 1 couche de peinture monocouche acrylique mate												
Murs	Révision des bandes Ponçage - Impression Pose du revêtement type « GO » 2 couches de peinture satinée												
Boiseries	Ponçage Impression 2 couches de peinture glycéro satinée												
Métaux	Dégraissage Ponçage Impression 2 couches de peinture glycéro satinée												
C2-3 Vérifier les quantités de matériaux à mettre en œuvre	Déterminer la surface de revêtement de sol.	<p>Dossier ressources</p> <p>$S = L \times l$</p>	Le calcul est juste.	Calcul de la surface = $3.03 \times 3.54 = 10.72 \text{ m}^2$	/2								
C2-1 Traduire graphiquement une solution technique	Donner le classement d'usage des dalles moquette type podium et donner la signification des lettres.	Dossier ressources	Une réponse exacte.	<p>Classement d'usage : - à l'usure : U3</p> <p>- au poinçonnement : P3</p>	/3								
	<p>Compléter à l'échelle 1/20° le plan de la chambre</p> <p>Tracer les axes de la pièce en rouge.</p> <p>Réaliser le calepinage des dalles</p> <p>A partir du calepinage, donner le nombre de dalles nécessaires</p>	Dossier technique	<p>La porte et la cloison sont représentées</p> <p>Le dessin est à l'échelle.</p> <p>Les axes sont tracés.</p> <p>Le calepinage est réalisé selon les règles de pose</p> <p>Le travail est soigné</p>	<p>Réponse page 6/6</p> <p>Nombre de dalles : 56</p>	<p>/6</p> <p>/10</p> <p>/3</p>								
SECTEUR - BATIMENT		CAP	Peintre	SESSION 2009	Epreuve	Forme	Durée	ANALYSE D'UNE SITUATION PROFESSIONNELLE		Coefficient	4		
			Applicateur de Revêtements		EP 1	Ecrite		CORRIGE		Feuille	5/6		



SECTEUR - BATIMENT	CAP	Peintre Applicateur de Revêtements	SESSION 2009	Epreuve	Forme	Durée	ANALYSE D'UNE SITUATION PROFESSIONNELLE	Coefficient	4
				EP 1	Ecrite				